






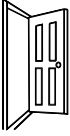


LONGUEUR	Séquence 2	Séance 3
CE1	S'ENTRAÎNER 2	











Pour avoir un ordre de grandeur, on peut se demander :

- Si l'objet mesure plutôt plusieurs bandes-étalons bleues, dans ce cas, l'unité est le centimètre.
- Si l'objet mesure plutôt plusieurs règles jaunes, dans ce cas, l'unité est le mètre.

Entoure la mesure de chaque objet.

	1 cm	8 cm	8 m	1 m
	1 m	12 m	50 m	120 m
	5 cm	50 cm	5 m	50 m
	13 cm	130 cm	13 m	130 m
	32 cm	324 cm	32 m	324 m
	20 cm	2 m	20 m	200 m
	2 cm	20 cm	2 m	20 m
	18 cm	180 cm	18 m	180 m

	2 cm	20 cm	60 cm	2 m
	1 cm	15 cm	70 cm	7 m
	10 cm	1 m	10 m	100 m
	10 cm	1 m	10 m	100 m
	2 cm	20 cm	2 m	20 m
	4 cm	4 m	40 m	400 m
	5 cm	50 cm	1 m	5 m
	1 cm	10 cm	1 m	10 m

Entoure la plus longue des deux mesures.

3 cm	10 cm
------	-------

200 cm	2 m
--------	-----

50 cm	5 m
-------	-----

1 m	5 m
-----	-----

10 cm	1 m
-------	-----

20 cm	20 m
-------	------

Range les mesures de la plus courte à la plus longue : 10 m, 25 cm, 1 m, 10 cm, 25 m, 250 cm

--	--	--	--	--	--